

ARBETSBLAD 81

Diagram

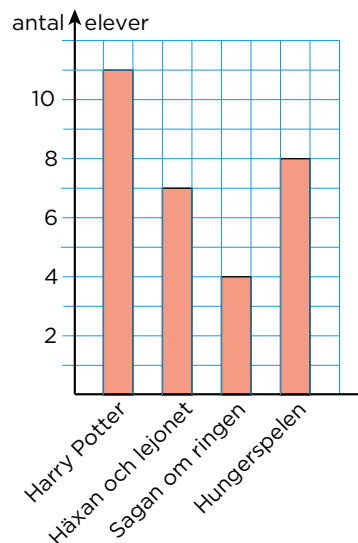
1 Diagrammet visar vilka böcker som var populärast i en klass.

a) Hur många fler röster fick "Harry Potter" än

"Sagan om ringen"? _____

b) Hur många elever deltog i omröstningen? _____

c) Vilken sorts diagram är det här? _____

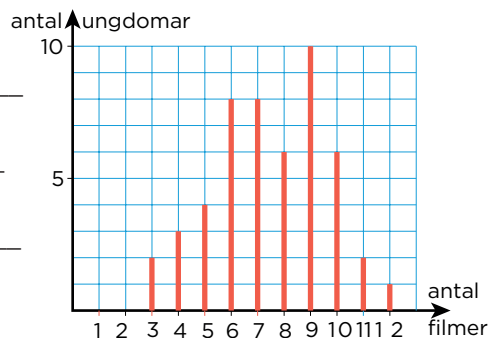


2 Diagrammet visar hur många filmer ett antal ungdomar såg under en månad.

a) Vilket antal filmer var vanligast? _____

b) Hur många ungdomar såg 10 filmer eller fler? _____

c) Vilken sorts diagram är det här? _____

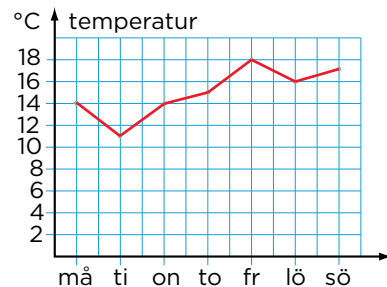


3 Det här diagrammet visar temperaturen klockan 12.00 under en vecka i maj.

a) Vilken temperatur var det på tisdagen? _____

b) Vilken dag var det 18 °C? _____

c) Vilken sorts diagram är det här? _____

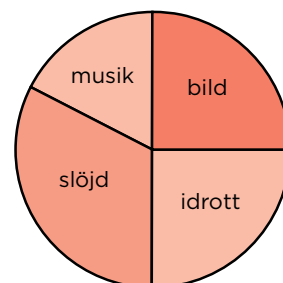


4 I en skola med 180 elever gjordes en undersökning om vilket övningsämne som var populärast bland eleverna. Diagrammet visar resultatet.

a) Hur stor andel av eleverna svarade "bild"? _____

b) Dubbelt så många svarade "slöjd" som "musik". Hur många elever svarade "musik"? _____

c) Vilken sorts diagram är det här? _____



ARBETSBLAD 81 - FACIT

Diagram

- 1** a) 7 röster
b) 30 elever
c) Stapeldiagram

- 2** a) 9 filmer
b) 9 ungdomar
c) Stolpdiagram

- 3** a) 11 °C
b) Fredag
c) Linjediagram

- 4** a) $\frac{1}{4}$ (25 %)
b) 30 elever
c) Cirkeldiagram