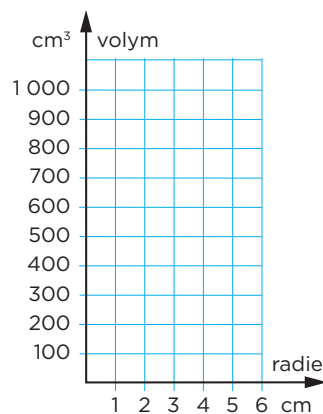


## ARBETSBLAD 73

### Rita en graf

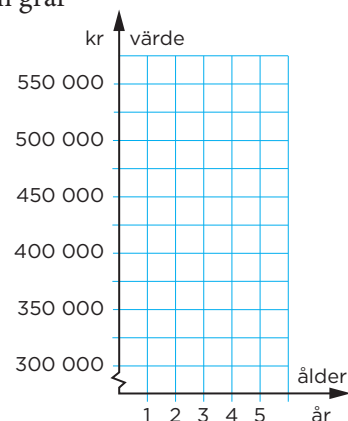
- 1 Rita in punkterna i koordinatsystemet och sammanbind dem till en graf som visar hur ett klots volym är en funktion av klotets radie.  
(Du ska inte dra räta linjer mellan punkterna.)

Radie (cm)	Volym (cm <sup>3</sup> )
1	4
2	34
3	110
4	270
5	520
6	900



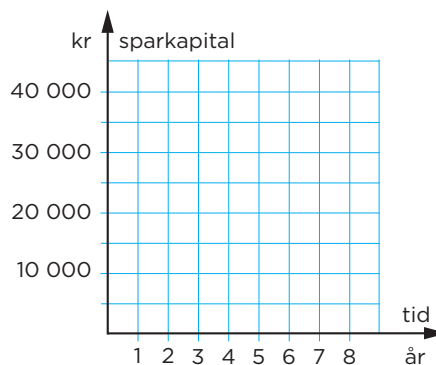
- 2 Rita in punkterna i koordinatsystemet och sammanbind dem till en graf som visar hur en bils värde är en funktion av bilens ålder.  
(Du ska inte dra räta linjer mellan punkterna.)

Ålder (år)	Värde (kr)
1	560 000
2	450 000
3	380 000
4	330 000
5	300 000



- 3 Rita in punkterna i koordinatsystemet och sammanbind dem till en graf som visar hur Felicias sparkapital ökar under 8 års tid.  
(Du ska inte dra räta linjer mellan punkterna.)

Tid (år)	Sparkapital (kr)
0	4 000
1	8 080
2	12 240
3	16 470
4	20 820
5	25 230
6	29 730
7	34 330
8	39 020



# ARBETSBLAD 73 - FACIT

## Rita en graf

