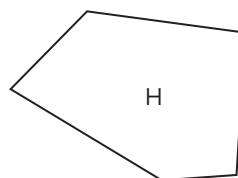
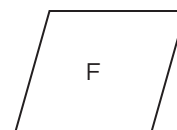
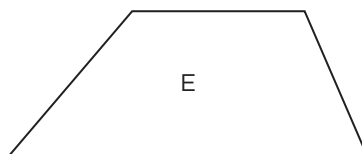
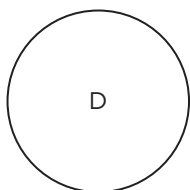
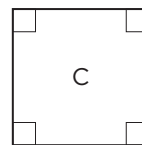
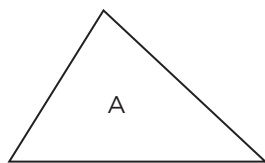


ARBETSBLAD 44

Geometriska objekt (I)



Här ovanför finns ett antal geometriska objekt. Några av dem har flera namn.

Vilket eller vilka av objekten ovan är en

- 1 rektangel _____
- 2 triangel _____
- 3 cirkel _____
- 4 romb _____
- 5 kvadrat _____
- 6 månghörning _____
- 7 parallelogram _____

ARBETSBLAD 44 - FACIT

Geometriska objekt (I)

- 1** C och G
- 2** A
- 3** D
- 4** C och F
- 5** C
- 6** Alla utom D
- 7** B, C, F och G