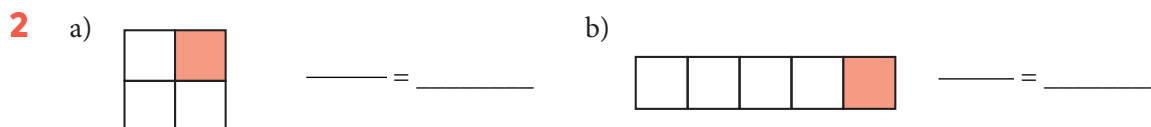
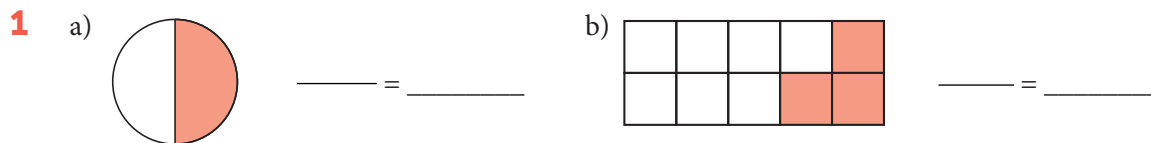


ARBETSBLAD 20

Bråkform och decimalform

Hur stor andel är färgad? Svara i bråkform och i decimalform.



Skriv talen i decimalform.

3 a) $\frac{9}{10} =$ _____ b) $\frac{2}{5} =$ _____ c) $\frac{3}{4} =$ _____

4 a) $2\frac{1}{2} =$ _____ b) $1\frac{1}{4} =$ _____ c) $3\frac{1}{5} =$ _____

Skriv talen i decimalform och beräkna.

5 a) $\frac{3}{4} + 0,9 =$ _____ + _____ = _____ b) $\frac{1}{2} - \frac{1}{5} =$ _____ - _____ = _____

6 a) $\frac{7}{10} + 0,9 =$ _____ + _____ = _____ b) $\frac{3}{4} - 0,07 =$ _____ - _____ = _____

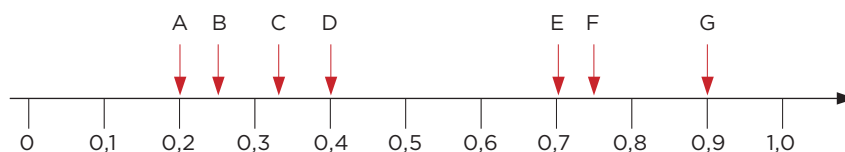
7 Vilket av talen nedan är lika med

a) en tredjedel _____ b) en hel och tre tiondelar _____

1,3 $1\frac{1}{3}$ $\frac{3}{9}$ 1,13 0,33

8 Vilken pil pekar på talet?

a) $\frac{1}{4}$ _____ b) $\frac{1}{3}$ _____ c) $\frac{7}{10}$ _____ d) $\frac{2}{5}$ _____ e) $\frac{3}{4}$ _____



ARBETSBLAD 20 - FACIT

Bråkform och decimalform

1 a) $\frac{1}{2} = 0,5$

b) $\frac{3}{10} = 0,3$

2 a) $\frac{1}{4} = 0,25$

b) $\frac{1}{5} = 0,2$

3 a) 0,9

b) 0,4

c) 0,75

4 a) 2,5

b) 1,25

c) 3,2

5 a) 1,65

b) 0,3

6 a) 1,6

b) 0,68

7 a) $\frac{3}{9}$

b) 1,3

8 a) B

b) C

c) E

d) D

e) F