

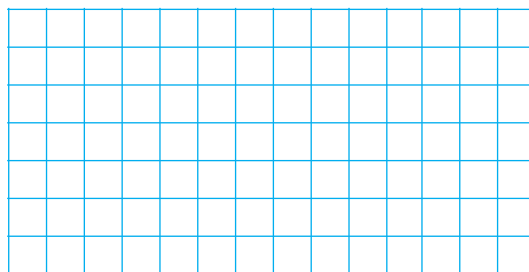
ARBETSBLAD 42

Teckna ekvationer (I)

- 1 Hur mycket kostar varje tablettask om allt sammanlagt kostar 42 kr? Teckna en ekvation som passar till bilden och lös sedan ekvationen.



6 kr




- 2 Hur mycket kostar äpplena per styck om allt sammanlagt kostar 54 kr? Teckna en ekvation som passar till bilden och lös sedan ekvationen.



x kr/st



8 kr/st



- 3 Hur mycket kostar tidningarna per styck om allt sammanlagt kostar 95 kr? Teckna en ekvation som passar till bilden och lös sedan ekvationen.




x kr/st



20 kr



15 kr




- 4 Hur mycket kostar golfbollarna per styck om allt sammanlagt kostar 215 kr? Teckna en ekvation som passar till bilden och lös sedan ekvationen.



x kr/st



170 kr



ARBETSBLAD 42 - FACIT

Teckna ekvationer (I)

1 12 kr
($3x + 6 = 42$)

2 6 kr
($5x + 24 = 54$)

3 30 kr
($2x + 35 = 95$)

4 15 kr
($3x + 170 = 215$)