


ARBETSBLAD 60

Räkna med tid

1 a) Hur mycket är klockan? _____

b) Hur mycket är klockan om en kvart? _____

c) Hur mycket var klockan
för en halvtimme sen? _____




Eftermiddag

2 a) Hur mycket är klockan? _____

b) Hur mycket är klockan
om tjugo minuter? _____

c) Hur mycket var klockan för
tjugo minuter sen? _____




Förmiddag

3 a) Hur mycket är klockan? _____

b) Hur mycket är klockan om en kvart? _____



c) Hur mycket var klockan
för en kvart sen? _____



Kväll



Hur lång tid är det mellan klockslagen?

4





Förmiddag

5





Eftermiddag

6



Kväll

7



Förmiddag

ARBETSBLAD 60 – FACIT

Räkna med tid

- 1** a) 16.25
b) 16.40
c) 15.55

- 2** a) 10.45
b) 11.05
c) 10.25

- 3** a) 19.05
b) 19.20
c) 18.50

- 4** 2 h 10 min

- 5** 2 h 45 min

- 6** 45 min

- 7** 2 h 30 min