


ARBETSBLAD 43


Teckna ekvationer (I)

Hur många tändstickor är det varje ask om det är lika många i varje ask?

1





2



3

I ask B är det dubbelt så många tändstickor som i ask A.
Hur många är det i vardera asken?



ARBETSBLAD 43 – FACIT

Teckna ekvationer (I)

1 4 st
($2x + 3 = 11$)

2 3 st
($3x + 2 = 11$)

3 A: 4 st
B: 8 st
($x + 2x + 4 = 16$)